
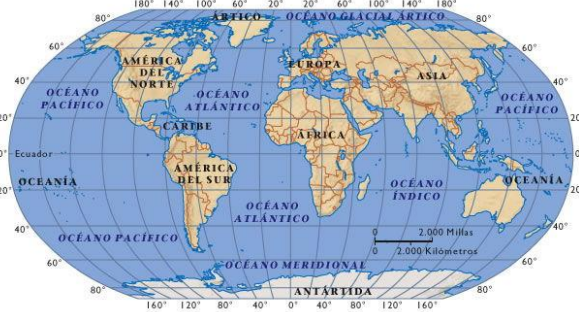




**UNIDAD N° 1 ¿CÓMO ME UBICO EN MI ENTORNO Y EN EL PAÍS?  
GUÍA N° 4 DE REFUERZO HISTORIA**

Nombre: \_\_\_\_\_ Curso: 2° básico \_\_\_\_\_ Fecha: \_\_\_\_/04/20

**FORMAS DE REPRESENTAR LA TIERRA**

 <p style="text-align: center;"><b>globo terráqueo</b></p>	 <p style="text-align: center;"><b>planisferio</b></p>
<p>Representa la forma geoide de la Tierra.</p>	<p>Representa la Tierra en forma plana.</p>

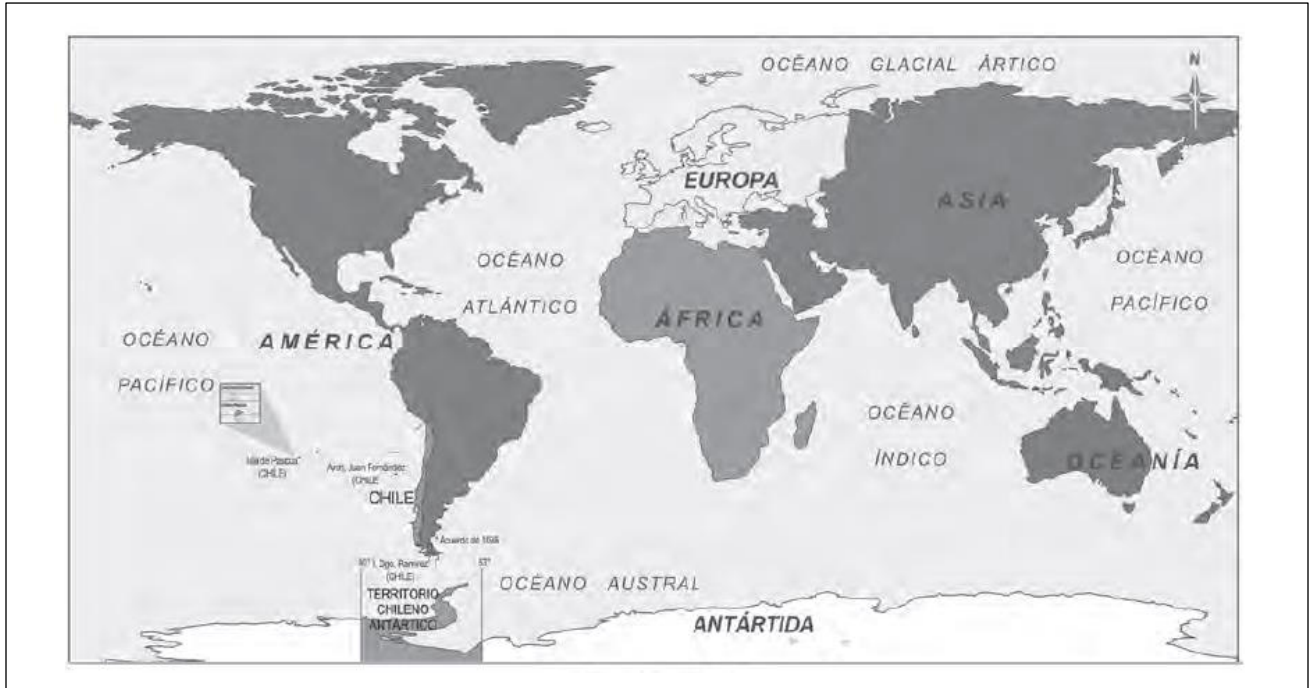
**LOS CONTINENTES**

1.-Observa el siguiente mapa:



En el planeta Tierra existen 6 continentes. Escríbelos dentro de los recuadros.

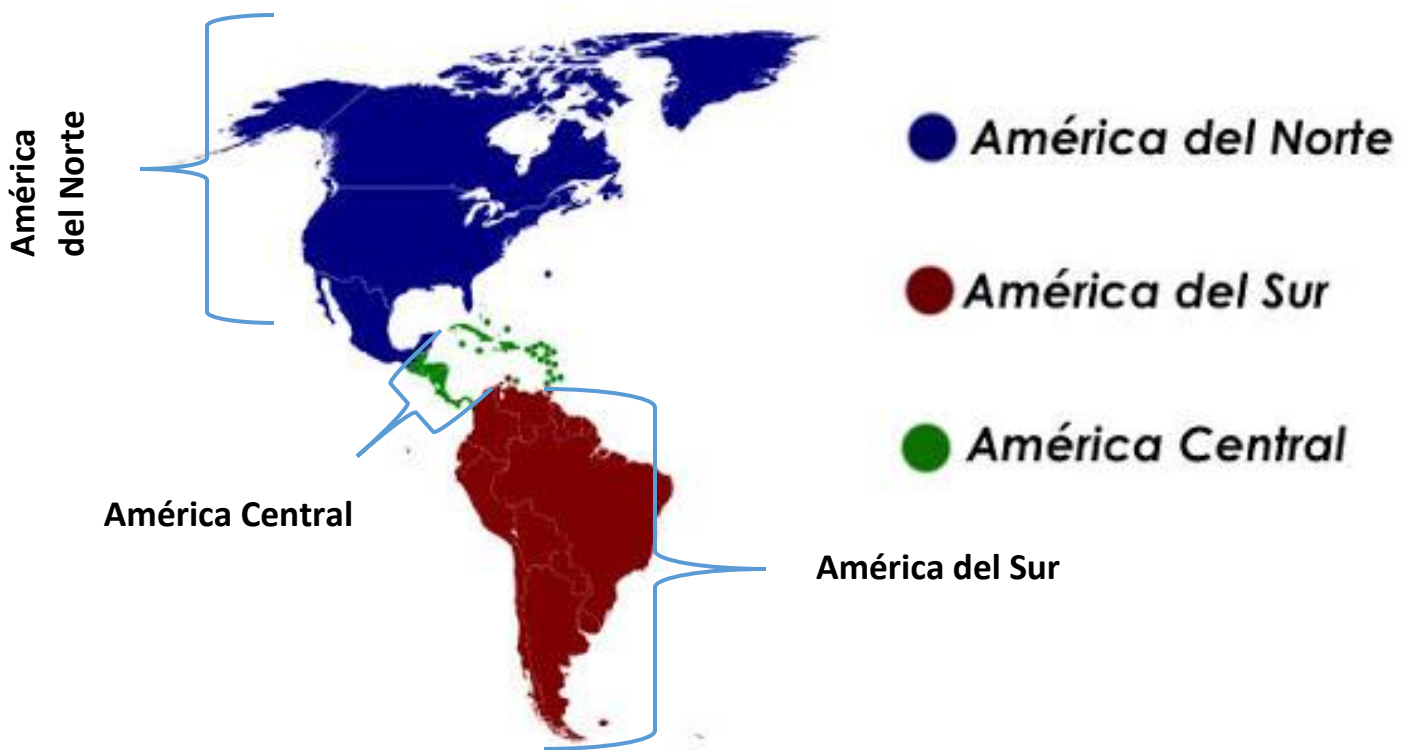
2.-Los continentes están rodeados por 5 por océanos. Observa el mapa y escribe sus nombres.



1)	2)	3)
4)	5)	

### América

América se divide en 3: América del Norte, América Central y América del Sur.



## Chile en América del Sur



Observa el mapa y responde:

1.- Escribe el nombre de los 3 países que limitan con Chile.

\_\_\_\_\_ y \_\_\_\_\_

2.-¿En qué continente se encuentra Chile?

\_\_\_\_\_

3.-¿Cuál es el nombre del océano que se encuentra al oeste de Chile?

\_\_\_\_\_

4.-Explica la ubicación de Chile? Usa los puntos cardinales.

\_\_\_\_\_  
\_\_\_\_\_  
\_\_\_\_\_

5.-Chile se ubica al \_\_\_\_\_ de Colombia y al \_\_\_\_\_ de Argentina.

6.-¿En qué situaciones podemos utilizar este tipo de mapa?

\_\_\_\_\_  
\_\_\_\_\_

Completa según corresponda:



- 1.-Pinta Chile de color rojo.
- 2.-Pinta de color Verde Argentina, de color amarillo Bolivia y de color salmón Perú.
- 3.-Ubica, escribe el nombre y colorea de color celeste el océano Pacífico.
- 4.-Pinta de color morado y escribe el nombre del país más grande de América del Sur.

