



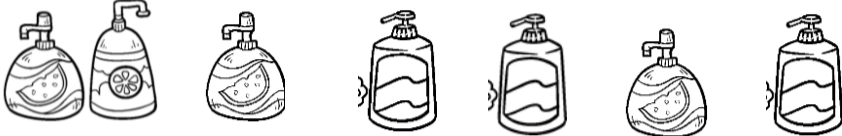



Guía de Matemática.

Nombre:

Curso: 1ª Básico.....

I) Repasando los números.

Cuenta y registra la cantidad de elementos en cada caso.

II) Dibuja elementos según el número.

8

9

7

III) Completa la secuencia.

A 10x10 grid with numbers and illustrations. The numbers are: Row 1: 1, empty; Row 2: empty, empty; Row 3: empty, 5, empty, 7, empty; Row 4: empty, empty, empty, empty, 9, empty; Row 5: empty, 2, empty; Row 6: empty, empty, 4, empty, 6, empty, 8; Row 7: empty, empty, empty, empty, empty, empty, empty, 10; Row 8: 1, empty; Row 9: empty, empty, empty, empty, empty, empty, empty, empty; Row 10: empty, empty, empty, empty, empty, empty, empty, 10. Illustrations include: a dog (top left), a dog (middle left), a dog (bottom left), a ball (middle right), a bone (bottom right), and a doghouse (bottom right).

¿Cómo encuentras que realizaste las actividades? Pinta tu respuesta.



BIEN



MÁS O MENOS



DEBO MEJORAR

Los invito a repasar en el sitio web:

<https://curriculumnacional.mineduc.cl/estudiante/621/w3-article-21161.html>