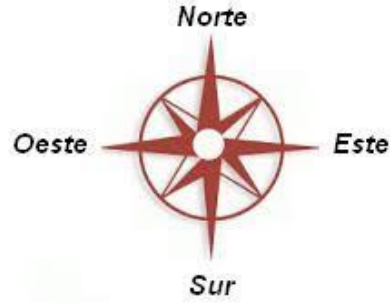




Guía de refuerzo Historia


Nombre: _____ Curso: 2° _____ Fecha: ____/03/20

1.- Sigue las instrucciones según corresponda y en cada cuadrícula marca el camino con lápiz grafito. Guíate por los puntos cardinales



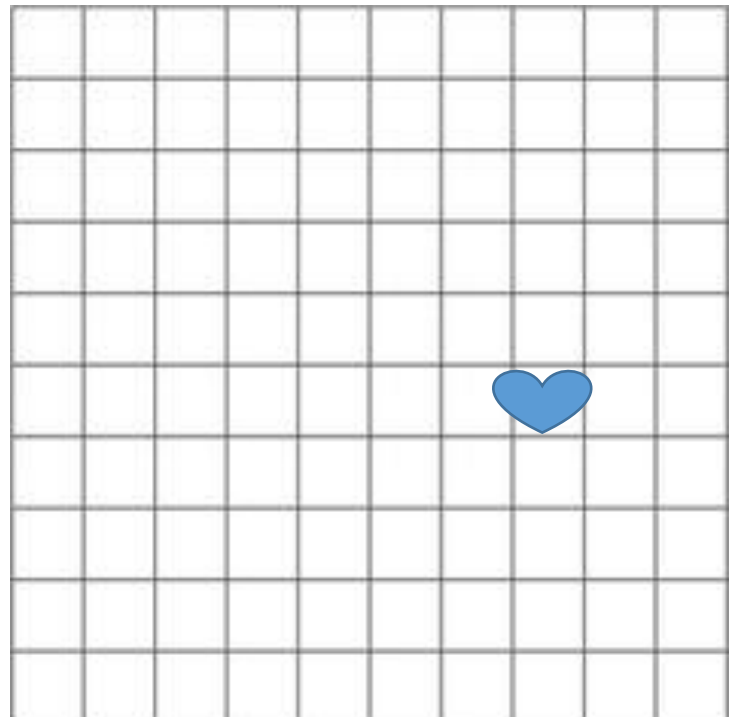
1. Comienza en el sol:

- a- Desde el sol, avanza 4 lugares al norte.
- b- Luego, avanza al Este 5 espacios.
- c- Avanza al Sur por 6 espacios.
- d- Avanza al Oeste 3 espacios.
- e- Al final avanza al Norte 2 espacios.
- f- Marca una X. ¿Dónde estás tú ahora?




2. Comienza en el corazón:

- a- Desde el corazón, avanza al Oeste 5 espacios.
- b- Ahora avanza al Sur 3 espacios.
- c- Avanza al Este 2 espacios.
- d- Avanza al Norte 6 espacios.
- e- Al final avanza 4 espacio al oeste.
- f- Marca una X. ¿Dónde estás tú ahora?



2.-Dibuja según corresponda. Luego colorea.

a-Al lado derecho del niño hay un semáforo y a su lado izquierdo hay un auto.



b-Al lado derecho del gato hay tres ratones y a su lado izquierdo hay dos pelotas.



c-Al lado izquierdo de la niña hay dos lápices y a su lado derecho hay una flor.



d-Al lado izquierdo de la tortuga hay cuatro peces y a su lado derecho hay tres conchas.

